




Nombre: _____



¡QUÉ BIEN! AGRUPAMOS POR FORMA

Categoría 1	Categoría 2	Categoría 3
		
[Empty box]	[Empty box]	[Empty box]
[Empty box]	[Empty box]	[Empty box]

Consigna

• **Nombra** las figuras geométricas que observas en la ficha.

• **Recorta** las imágenes del anexo N.º 3 y **menciona** qué forma geométrica tienen.

• **Agrupar** las imágenes según su forma y **pega** cada grupo en el recuadro que corresponde.

Anexo de la página 83

