

Nombre: _____























| | |
|--------|--------|
| DECENA | UNIDAD |
| | |



10 unidades = 1 decena

Consigna

CONOCEMOS LA DECENA

| | | | | | |
|---------|---|---|---|--|---|
| |  |  |  |  |  |
| |  |  |  |  |  |
| decenas |  |  |  |  |  |
| |  |  |  |  |  |

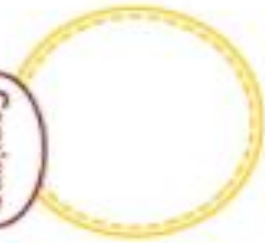
CONSIGNAS

- Cuenta el número de flores que hay dentro de la cuerda.
- Escribe la cantidad de flores que contaste en el cuadro de decenas y unidades.
- Agrupa de diez en diez las hojas en el recuadro y escribe el número de decenas que encontraste.

Nombre:



¿CUÁLES PUEDEN SER MASCOTAS?



Consigna

CONSIGNAS

• **Identifica** a los animales silvestres y domésticos que observas en la ficha.

• **Desprende** las imágenes del anexo N.º 8.

• **Pega** la imagen del bosque debajo de los animales silvestres y la de una casa, debajo de los animales domésticos.

Nombre:

| |
|--|
| |
| |
| |

sa - se - si - so - su

| |
|--|
| |
| |
| |

| |
|--|
| |
| |
| |

| |
|--|
| |
| |
| |

| |
|--|
| |
| |
| |

| |
|--|
| |
| |
| |

| |
|--|
| |
| |
| |

| |
|--|
| |
| |
| |

| |
|--|
| |
| |
| |

| |
|--|
| |
| |
| |

Realiza el trazo correcto con tu lápiz

Nombre:

sa - se - si - so - su

Realiza el trazo correcto con tu lápiz